

GEOGRAFIA

2ª Etapa

SÓ ABRA QUANDO AUTORIZADO.

Leia atentamente as instruções que se seguem.

- 1 - Este Caderno de Prova contém **cinco** questões, constituídas de itens e subitens, abrangendo um total de **oito** páginas, numeradas de 3 a 10.
Antes de começar a resolver as questões, verifique se seu Caderno está **completo**.
Caso haja algum problema, solicite a **substituição** deste Caderno.
- 2 - Esta prova vale **100** pontos, assim distribuídos:
 - Questão 01: **19** pontos.
 - Questão 02: **21** pontos.
 - Questões 03, 04 e 05: **20** pontos cada uma.
- 3 - **NÃO escreva seu nome nem assine nas folhas deste Caderno de Prova.**
- 4 - Leia cuidadosamente cada questão proposta e escreva a resposta, **A LÁPIS**, nos espaços correspondentes.
Só será corrigido o que estiver dentro desses espaços.
NÃO há, porém, obrigatoriedade de preenchimento **total** desses espaços.
- 5 - Não escreva nos espaços reservados à correção.
- 6 - **Ao terminar a prova**, chame a atenção do Aplicador, **levantando o braço**. Ele, então, irá até você para **recolher** seu **CADERNO DE PROVA**.


ATENÇÃO: Os Aplicadores **NÃO** estão autorizados a dar quaisquer explicações **sobre questões** de provas. **NÃO INSISTA**, pois, em pedir-lhes ajuda.

FAÇA LETRA LEGÍVEL.

Duração desta prova: **TRÊS HORAS.**

ATENÇÃO: Terminada a prova, recolha seus objetos, deixe a sala e, em seguida, o prédio. A partir do momento em que sair da sala e até estar fora do prédio, continuam válidas as proibições ao uso de aparelhos eletrônicos e celulares, bem como não lhe é mais permitido o uso dos sanitários.

Impressão digital do
polegar direito



COLE AQUI A ETIQUETA

QUESTÃO 01

Analise este trecho:

A Bacia Hidrográfica do Rio São Francisco é uma das maiores do País, tanto em área quanto em número de população que a habita, mas não em quantidade de água. [...] O que dá ao Rio São Francisco um caráter singular, para o sertanejo, é o fato de parcela considerável dos demais rios da região, a partir da Bahia, ser basicamente intermitente – só existe na estação chuvosa. E o Velho Chico permanece com vastos volumes de água, nunca menos de 600m³/s, mesmo nos anos e nos meses mais secos.

Retrato do Brasil, n. 10, p. 49, maio 2008. (Adaptado)

A partir dessa análise e considerando outros conhecimentos sobre o assunto,

1. **CITE uma** bacia hidrográfica brasileira que possui volume de água **maior** que o da Bacia do São Francisco e **APRESENTE** o **principal** fator responsável pelo volume de água maior na bacia hidrográfica citada.

Bacia Hidrográfica: A bacia Amazônica.

Fator: O principal fator é o clima equatorial, que apresenta temperaturas e índices pluviométricos elevados o ano todo.


2. **EXPLIQUE** por que o Rio São Francisco permanece **perene**, “com vastos volumes de água, [...] mesmo nos anos e nos meses mais secos”.

o que garante a perenidade do rio é o fato do seu alto curso – nascente ou cabeceira – e a maioria de seus afluentes

encontrarem-se em uma região de clima tropical com chuvas acentuadas e regulares no decorrer dos meses de verão,

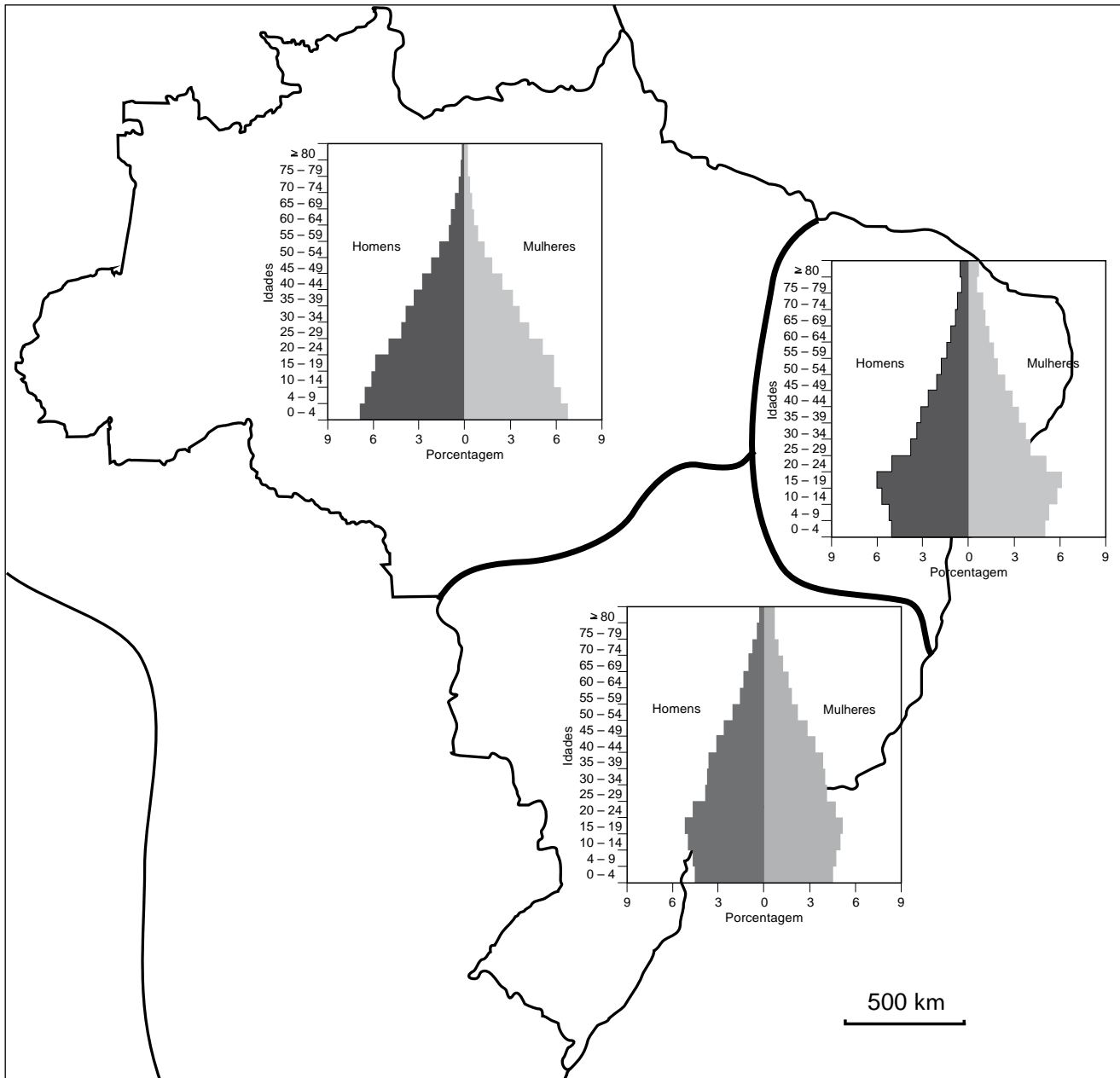
principalmente. Dessa forma ocorre uma redução da vazão, mas sem afetar a perenidade do São Francisco, nos

meses de inverno, quando os volumes de chuva caem sensivelmente.



QUESTÃO 02

Analise, neste mapa, as pirâmides que representam as estruturas etária e de gênero da população das três regiões geoeconômicas brasileiras em 2000:



SILVA, B.C.N.; SILVA, S.B. de M.; COELHO, A.S.; SILVA, M.P. Estruturas etárias da população do Brasil e dos estados brasileiros. In: *RDE – Revista de Desenvolvimento Econômico*, ano IX, n. 16, p.93-97, dez., 2007. (Adaptado)

A partir dessa análise e considerando outros conhecimentos sobre o assunto, **IDENTIFIQUE** uma característica marcante da configuração da pirâmide populacional de **cada uma** das três regiões geoeconômicas brasileiras e **APRESENTE** uma razão que justifica a característica identificada em **cada uma** delas.

• **Amazônia**

Característica: Predomínio da população jovem, identificada pela base larga da pirâmide.

Razão: Elevadas taxas de natalidade associadas aos altos índices de mortalidade,
principalmente entre a população rural.

• **Centro-Sul**


Característica: Predomínio da população adulta, identificada pelo estreitamento na base da pirâmide.

Razão: Considerável envelhecimento da população, associado às menores taxas de natalidade
brasileiras.

• **Nordeste**

Característica: Transição etária

Razão: Elevação nos índices de desenvolvimento humano regional, o que gera redução nas taxas de
mortalidade entre os jovens, associada ao refluxo migratório da população adulta em direção a região.



QUESTÃO 03

A **5ª Cúpula das Américas**, evento continental que reuniu 34 líderes das Américas, em abril de 2009, em Trinidad e Tobago, reacendeu e levou para a mídia a temática dos organismos de integração e desenvolvimento regionais que atuam nesse Continente.

Um jornal, à época, relacionou os seguintes órgãos: **Comunidade do Caribe** (Caricom); **Sistema de Integração Centro-Americano** (SICA); **Alternativa Bolivariana para as Américas** (ALBA); **Organização dos Estados da América Latina e Caribe** (Oealc), também chamada, não sem uma dose de ironia, de OEA do B; **União das Nações Sul-Americanas** (Unasul); **Organização dos Estados Americanos** (OEA). E pode-se, ainda, citar alguns outros – por exemplo, **Tratado Norte-Americano de Livre Comércio** (Nafta) e **Mercado Comum do Sul** (Mercosul).

Considerando essas informações, analise esta afirmativa:

Avalia-se que a proliferação de tantos organismos de cooperação, integração e desenvolvimento regionais é desfavorável ao desenvolvimento sustentável do Continente.

Você **CONCORDA** com essa afirmativa?

Sim.

Não.

JUSTIFIQUE sua resposta.

É provável que a UFMG considere as duas possibilidades como respostas corretas, como fez em vestibulares anteriores

com esse mesmo tipo de abordagem. Caberá ao candidato uma argumentação que seja convincente e bem elaborada

para os dois casos. Particularmente, a equipe do Unimaster, envolvida com a resolução dessa prova, acredita que SIM,

pois essa intensa fragmentação da América Latina em diversas organizações acaba por enfraquecer os objetivos de

integração nacional ao se dispersar nos interesses de fortalecimento dos países do continente. Um número menor de

organizações, mais centradas em sua metas alcançariam mais rapidamente seus interesses e conseqüentemente

tornariam-se mais fortes.

QUESTÃO 04

Analise este mapa de uma região considerada uma das mais populosas do mundo:




Sem escala

No momento atual, na região mostrada nesse mapa, vivenciam-se duas expectativas no cenário mundial:

- uma, gerada por economias que vêm enfrentando a crise financeira com menos retrocesso, por exemplo, em relação aos países da União Européia, é a de que tais economias podem amenizar efeitos dessa crise em nível global; e
- a outra é a de que o crescente poderio bélico-nuclear de alguns países pode, enfim, ameaçar a segurança e a paz mundiais.

Nas duas situações – **melhor desempenho econômico** e **corrida armamentista** –, há países tanto capitalistas quanto socialistas e, nesses dois grupos, em maior ou menor medida, políticas de Estado são adotadas em detrimento de direitos sociais e políticos básicos das populações, o que chega, inclusive, a extremos de desrespeito a direitos humanos.



Considerando essas informações,

- A) **CITE um** país dessa região que se enquadra, **mais especificamente**, em **cada uma das duas** situações caracterizadas;
e, **para cada país citado**,
- B) **IDENTIFIQUE** o sistema econômico nele adotado;
- C) **APRESENTE um** procedimento do Estado, nele ocorrido, que evidencia desrespeito a direitos humanos.

1. A) País cujo desempenho da economia pode amenizar os efeitos da crise financeira global:

China.

B) Sistema econômico adotado nesse país: Socialista.

C) Procedimento do Estado que desrespeita a população nacional: - a ausência de um sistema
plutipartidário; - a ausência de liberdade de expressão; - o violento controle das minorias étnicas; - a rigorosa estrutura legal do
controle de natalidade; - o uso intensivo da mão-de-obra a custos muito baixos e inexistência de sindicatos fortes que defendam
seus interesses; - violação dos direitos humanos associados à frequência acentuada da aplicação da pena de morte, entre outros.

2. A) País que tem aumentado seu poderio nuclear: a Coreia do Norte ou o Irã.

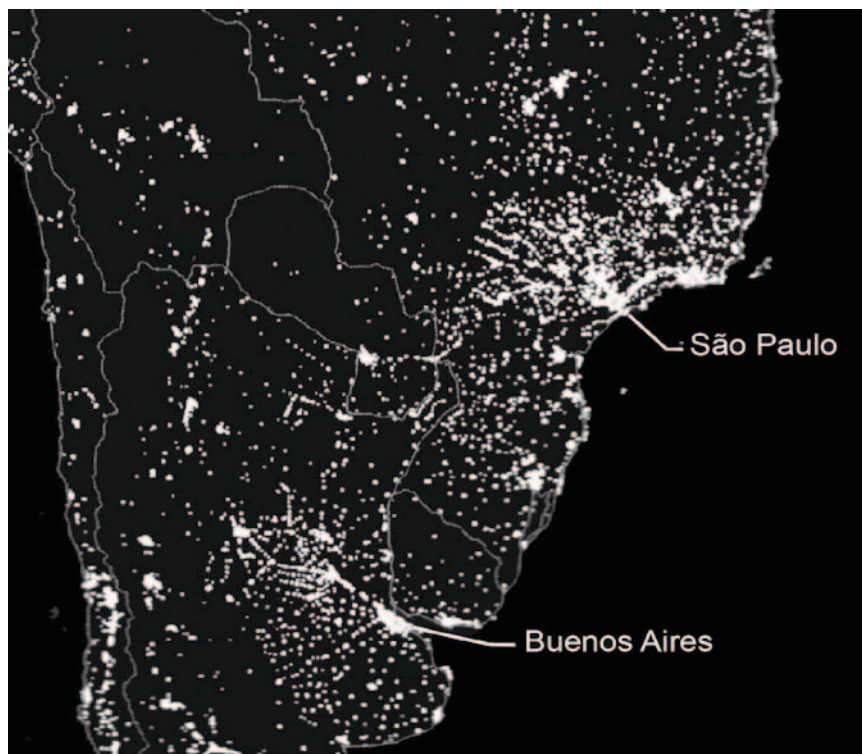
B) Sistema econômico adotado nesse país: Socialista – Coreia do Norte- e Teocracia –Irã.

C) Procedimento do Estado que desrespeita a população nacional: Coreia do Norte: controle absoluto da
população nos aspectos políticos e trabalhistas; o controle de entrada e saída da população local e estrangeiros no país; a
manutenção de um regime político ditatorial-nepotista; a total ausência de liberdade de expressão, entre outros.

Irã: Sistema político de participação popular, mas fraudulento; controle social baseado em rígida estrutura religiosa fundamentado
no Islã; maciço controle das manifestações populares; aplicação de práticas de torturas a quem se coloca contra o regime
teocrático vigente no país, entre outros.

QUESTÃO 05

Analise esta imagem noturna, em que está retratada parte do Continente Sul-Americano:



Csaba Deák. Globalização ou crise global? *Anais do Encontro Nacional da ANPUR*, 2001. Rio de Janeiro. Imagem publicada no Suplemento da *National Geographic*, out. 1998. (Adaptado)


A partir da análise dessa imagem e considerando outros conhecimentos sobre o assunto,

1. A) **IDENTIFIQUE um** fator de **ordem física** que justifica a distribuição espacial das regiões continentais escuras – ou seja, sem registro de luminosidade noturna – da área emersa retratada;

Fator: o relevo de altitudes elevadas ou escassez acentuada de chuva (desertos).

- B) **CITE uma** região geográfica, entre as mostradas na imagem acima, em que está presente o fator identificado.

Região geográfica: A região norte da Bolívia, que se encontra nas altitudes andinas e com baixos índices de pluviometria.




2. **EXPLIQUE** por que ocorre **maior** concentração de luminosidade noturna em Buenos Aires e em São Paulo, bem como nas imediações de ambas as cidades.

Ambas cidades concentram um grande número populacional, sendo que São Paulo e Buenos Aires são as duas maiores aglomerações urbanas da América do Sul, respectivamente. A cidade argentina é a capital do país e São Paulo, apesar de não ser a capital brasileira, é a cidade mais importante do país, com a maior concentração urbano-industrial do Brasil, uma situação que é análoga a de Buenos Aires.

Tal fato explica a maior luminosidade noturna nessas cidades e ao longo de suas imediações, há importantes núcleos urbanos polarizados pelas mesmas e atendidos por uma excelente infraestrutura de transportes, que servem de atrativos a novos investimentos e que mobilizam um número populacional mais expressivo, em busca de oportunidades.

EM BRANCO



Vestibular UFMG 2010 no ritmo das suas ideias

Questões desta prova podem ser reproduzidas para uso pedagógico, sem fins lucrativos, desde que seja mencionada a fonte: **Vestibular 2010 UFMG**. Reproduções de outra natureza devem ser previamente autorizadas pela Copeve/UFMG.